

Set-1
Series-A

Signature of Invigilator
with date

Signature of Center-In-Charge
with date

Signature of Examiner
with date

নিখিলবঙ্গ মেধা অন্বেষণ—২০২৪

অভীক্ষা

নাম (Name) :

ক্রমিক নং (Roll No) : শ্রেণি (Class) : দ্বিতীয় (Two)

বিদ্যালয় (School) :

অভীক্ষা কেন্দ্র (Center) :

পূর্ণমান : ১০০

সময় : ২ ঘণ্টা ৪৫ মিনিট

অভীক্ষার্থীদের প্রতি নির্দেশাবলী

- ১। প্রতি প্রশ্নের মান ১ নম্বরের।
- ২। কালো / নীল রঙের বল পেন ব্যবহার করতে হবে।
- ৩। কোনো ডিজিটাল যন্ত্র ব্যবহার করা যাবে না।
- ৪। শুধুমাত্র সঠিক উত্তরটি বেছে (✓) চিহ্ন দিতে হবে। কোনো প্রশ্নের উত্তরে একের অধিক (✓) চিহ্ন দিলে বা কাটাকুটি করলে ঐ প্রশ্নের পুরো নম্বর কাটা যাবে।
- ৫। প্রশ্নপত্রের শেষ পৃষ্ঠায় খসড়া (Rough work)-র জন্য ফাঁকা জায়গা বরাদ্দ থাকবে।
- ৬। প্রথম ১৫ মিনিট নাম, রোল নং, ইত্যাদি লিখে নিতে হবে। পরবর্তী ২ ঘণ্টা ৩০ মিনিট থাকবে প্রশ্নের উত্তর দেওয়ার জন্য।

Subject/Ability	Marks
Communicate	
Correlate	
Problem Solving	
Mental & Physical Coordination	
G.K.	
Total	

বিষয় : সংযোগ স্থাপনে সক্ষমতা

- সঠিক উত্তরটি বেছে '✓' চিহ্ন দাও :

১। অসংখ্য শব্দটির অর্থ হল—

(ক) অল্প সংখ্যক

(খ) অনেক

(গ) সমান

(ঘ) অসমান

২। মনুমেন্টের দোল যেন ————।

(ক) খ্যাপা গণ্ডার

(খ) খ্যাপা যাঁড়

(গ) খ্যাপা হাতি

(ঘ) খ্যাপা সিংহ

৩। All teddy bears are ——.

(ক) very bad

(খ) very sad

(গ) very good

(ঘ) very poor

৪। নীচের কোন্ কার্ডটির সাহায্যে ৩১ সংখ্যা বোঝানো যাবে—

(ক) \square \square \triangle

(খ) \square \triangle

(গ) \triangle \triangle \triangle

(ঘ) \square \square \square \triangle

৫। এককের ঘরের অঙ্ক একই রেখে দশকের ঘরের অঙ্ক বাড়ালে সংখ্যার মান ——।

(ক) বাড়বে

(খ) কমবে

(গ) একই থাকবে

(ঘ) কোনোটিই নয়

৬। Sweater → Winter, then Raincoat →

(ক) summer

(খ) monsoon

(গ) spring

(ঘ) autumn

৭। ২৭৫৮ সংখ্যাটির কোন্ অঙ্কটির স্থানীয় মান ও প্রকৃত মান একই?

(ক) ২

(খ) ৭

(গ) ৫

(ঘ) ৮

৮। 'সজ্জা' শব্দের মত উচ্চারিত শব্দ—

(ক) আজ্ঞা

(খ) আচ্ছা

(গ) লজ্জা

(ঘ) বাঞ্ছা

৯। Which sense organ is used for taste ?

(ক) nose

(খ) tongue

(গ) ear

(ঘ) skin

১০। 'শন শন হাওয়া বয়'—শন শন বললেই আমরা হাওয়ার আওয়াজ বুঝি। এমনই 'খিল খিল' বলতে আমরা বুঝি—

(ক) কান্নার আওয়াজ

(খ) হাসির আওয়াজ

(গ) কথা বলার আওয়াজ

(ঘ) গানের আওয়াজ

১১। কমলালেবু তরমুজের চেয়ে ——।

(ক) ভারী

(খ) হালকা

(গ) সমান

(ঘ) কোনোটিই নয়

১২। একটি একক কাঠিতে সবচেয়ে বেশী ক'টি লাল বল বসানো যায়?

(ক) ৮

(খ) ১০

(গ) ৯

(ঘ) ১৫

১৩। বর্ষাকাল বছরের ——— ঋতু।

- (ক) দ্বিতীয় (খ) তৃতীয়
(গ) প্রথম (ঘ) ষষ্ঠ

১৪। নীচের কোন যুক্তবর্ণটি ভেঙে দেখালে 'র' আগে আসে—

- (ক) র্ দ (খ) দ্র
(গ) দ্য (ঘ) দ্দ

১৫। The colour of the thing is white. What is the thing?

- (ক) banana (খ) blackboard
(গ) leaf (ঘ) chalk

১৬। Birds live in ———.

- (ক) house (খ) cave
(গ) nest (ঘ) none

১৭। ৪টি ৪-এর দল মিলে ১৬ হলো। এটি সংক্ষেপে লিখলে কিভাবে লেখা হবে?

- (ক) $৪ \times ৪ = ১৬$ (খ) $৪ \div ৪ = ১$
(গ) $৪ - ৪ = ০$ (ঘ) $৪ + ৪ + ৪ + ৪ = ১৬$

১৮। 'গাছে গাছে' কবিতায় এমন একটি ফলের নাম আছে, ঐ নামে একটি ফুলও আছে?

- (ক) লিচু (খ) আম
(গ) কলা (ঘ) বেল

১৯। Mango is a fruit but potato is a ———.

- (ক) flower (খ) vegetable
(গ) fruit (ঘ) bird

২০। আমি 'সংযোগ স্থাপনে সক্ষমতা' মূল্যায়নে সর্বোচ্চ নম্বর পেয়েছি। তাই আমি ঐ মূল্যায়নে হয়েছি—

- (ক) দ্বিতীয় (খ) তৃতীয়
(গ) চতুর্থ (ঘ) প্রথম

বিষয় : সমন্বয় সাধনে সক্ষমতা

● সঠিক উত্তরটি বেছে '✓' চিহ্ন দাও :

২১। স্কুলে পড়ার বইকে বলা হয় ———।

- (ক) গল্পের বই (খ) পাঠ্য বই
(গ) ছবির বই (ঘ) ভ্রমণ কাহিনী

২২। “আমাদের গ্রাম” কবিতাটি লিখেছেন—

(ক) রবীন্দ্রনাথ ঠাকুর

(খ) বন্দে আলি মিত্র

(গ) বিনয় মজুমদার

(ঘ) শ্রী নির্মলেন্দু গৌতম

২৩। In leap year February has

(ক) 29 days

(খ) 28 days

(গ) 30 days

(ঘ) 31 days

২৪। ৭ই জুলাই রবিবার হলে ১০ই জুলাই হবে—

(ক) সোমবার

(খ) মঙ্গলবার

(গ) বৃহস্পতিবার

(ঘ) বুধবার

২৫। Rearrange the letters ‘ylcec’ to make a meaningful word—

(ক) lyece

(খ) cycle

(গ) cycel

(ঘ) cylec

২৬। ‘রোশনাই’ শব্দটির প্রতিশব্দ হল—

(ক) স্বর্ণ

(খ) দীপ্তি

(গ) পুষ্প

(ঘ) রৌদ্র

২৭। ১ টাকা ৫০ পয়সা = ?

(ক) ১৫০ পয়সা

(খ) ২০০ পয়সা

(গ) ১০০ পয়সা

(ঘ) ৫০ পয়সা

২৮। ৩১ সংখ্যাটিতে দশকের ঘরের অঙ্ক ১ বাড়ালে নতুন সংখ্যাটি হবে—

(ক) ৩২

(খ) ১৩

(গ) ৩০

(ঘ) ৪১

২৯। The cloudy day seen in the season ———.

(ক) monsoon

(খ) winter

(গ) spring

(ঘ) summer

৩০। ব্যাঙ ১ বার লাফিয়ে যায় ৪ ঘর। ৩ বার লাফিয়ে গেলে কত ঘর যাবে?

(ক) ৪ ঘর

(খ) ৩ ঘর

(গ) ১২ ঘর

(ঘ) ৮ ঘর

৩১। কম করে দুটি মাস দারুণ গরম থাকে। কোন্ দুটি মাস?

(ক) আষাঢ়-শ্রাবণ

(খ) বৈশাখ-জ্যৈষ্ঠ্য

(গ) ভাদ্র-আশ্বিন

(ঘ) পৌষ-মাঘ

৩২। 'Cuckoo' is related with ———.

(ক) summer

(খ) spring

(গ) winter

(ঘ) monsoon

৩৩। কোনো সংখ্যার কোন্ ঘরের স্থানীয় মান ও প্রকৃত মান একই?

(ক) হাজার

(খ) শতক

(গ) দশক

(ঘ) একক

৩৪। খ্রীশ বসন্তর দোকান থেকে কী আনবে?

(ক) খাস্তা কচুরি

(খ) মিষ্টি

(গ) মুড়ি

(ঘ) তেলে ভাজা

৩৫। The last month of a year is ———.

(ক) November

(খ) January

(গ) December

(ঘ) June

৩৬। $৩ \times ৫ = ১৫$, এই অঙ্কে ৩ কে কী বলা হয়—

(ক) গুণ্য

(খ) গুণক

(গ) গুণফল

(ঘ) অবশিষ্ট

৩৭। বেলুন বাড়ির মানুষটি মেঘকে ভাসতে দেখে কোথায়?

(ক) শূন্যে

(খ) মাথার উপর

(গ) পায়ের তলায়

(ঘ) আকাশে

৩৮। গুরুজন বলতে বোঝায়—

(ক) বয়সে যিনি ছোট

(খ) বয়সে যিনি বড়

(গ) সমবয়সী

(ঘ) বন্ধু

৩৯। Mosquito spreads—

(ক) light

(খ) energy

(গ) disease

(ঘ) honey

৪০। নিচের কোন্ word টির আগে an বসে—

(ক) cow

(খ) umbrella

(গ) boy

(ঘ) cup

বিষয় : সমস্যা সমাধানে সক্ষমতা

● সঠিক উত্তরটি বেছে '✓' চিহ্ন দাও :

৪১। সকালে সোনার রবি কোন্ দিকে ওঠে?

(ক) উত্তর দিকে

(খ) পূর্ব দিকে

(গ) দক্ষিণ দিকে

(ঘ) পশ্চিম দিকে

৪২। বৈশাখের ঝড়কে বলে ———।

(ক) আশ্বিনের ঝড়

(খ) ঘূর্ণিঝড়

(গ) কালবৈশাখী

(ঘ) কোনোটিই নয়

৪৩। বৃষ্টি নামল দেখছি, সৃষ্টিধর কী নিয়ে আসবে?

(ক) বর্ষাতি

(খ) ছাতা

(গ) জুতো

(ঘ) গামছা

৪৪। 12×3 -এর গুণফলে মোট কাঁচি ১০ কাঁচির বাউল পাওয়া যাবে?

(ক) ১টি

(খ) ২টি

(গ) ৩টি

(ঘ) ৪টি

৪৫। What is the colour of leaf ?

(ক) yellow

(খ) brown

(গ) red

(ঘ) green

৪৬। মেলায় গতকাল ২৭টি ঝড়ি বিক্রি হয়েছে। আজ ৪৬টি ঝড়ি বিক্রি হয়েছে। দু'দিনে মোট ক'টি ঝড়ি বিক্রি হয়েছে?

(ক) ৮৩টি

(খ) ৭৩টি

(গ) ৭৫টি

(ঘ) ৫৩টি

৪৭। Birds eat with their ———.

(ক) lip

(খ) mouth

(গ) tongue

(ঘ) beak

৪৮। অতিথি পাখিকে কী পাখি বলা হয়?

(ক) পরিযায়ী পাখি

(খ) ঝাড়ুদার পাখি

(গ) দরজি পাখি

(ঘ) গায়ক পাখি

৪৯। সায়নের কাছে ২১টি দেশলাই কাঁচি আছে। কিন্তু দেশলাই বাক্সে ৩১টি কাঁচি রাখতে হবে। কতগুলি কাঁচি বেশি দরকার?

(ক) ১৫টি

(খ) ১০টি

(গ) ২১টি

(ঘ) ৫টি

৫০। কোনো সংখ্যাকে কত দিয়ে গুণ করলে গুণফল ঐ সংখ্যার দ্বিগুণ হবে?

(ক) ২

(খ) ৩

(গ) ৪

(ঘ) ৫

৫১। চাষীরা এ বছর ভালো ——— পেয়েছে।

(ক) ধান

(খ) গম

(গ) শস্য

(ঘ) আনাজ

৫২। 'লাল বহির রকমারি ছটা'—এখানে 'বহি' শব্দের যুক্ত ব্যঞ্জনগুলি হল—

(ক) গ + হ

(খ) হ + গ

(গ) হ + উ

(ঘ) হ + ন

৫৩। যেকোনো সংখ্যাকে ০ দিয়ে গুণ করলে পাওয়া যায়—

(ক) ঐ সংখ্যা

(খ) ০

(গ) ১০

(ঘ) ১

৫৪। "উচিত শিক্ষা" গল্পে চড়াই পাখি কোথায় বাসা বেঁধেছিল?

(ক) আম গাছে

(খ) বট গাছে

(গ) বাঁশ গাছে

(ঘ) জাম গাছে

৫৫। A bee collects ———।

(ক) honey

(খ) light

(গ) sound

(ঘ) wave

৫৬। সবচেয়ে ক্ষুদ্রতম সংখ্যা কোনটি?

(ক) ৯৬

(খ) ৭৭

(গ) ৮৫

(ঘ) ৬৬

৫৭। A cricket makes ———.

(ক) honey

(খ) sound

(গ) light

(ঘ) none

৫৮। $৩ + ৩ + ৩ = \square$

(ক) ৩×৩

(খ) $৩ - ৩$

(গ) $৩ \div ৩$

(ঘ) $৩ + ৩$

৫৯। পু ——— রিণী (ফাঁকা জায়গায় বসবে—)

(ক) স্ক

(খ) শক

(গ) স্ক

(ঘ) স্ক

৬০। ৫৮ সংখ্যাটিতে দশকের অঙ্কের স্থানীয়মান, এককের অঙ্কের প্রকৃত মানের থেকে কত বেশি?

(ক) ৫০

(খ) ৪২

(গ) ৩৮

(ঘ) ২৫

বিষয় : শারীরিক ও মানসিক সমন্বয় সাধন

● সঠিক উত্তরটি বেছে '✓' চিহ্ন দাও :

৬১। উল্লাপড়ার মাঠে শেয়াল ডাকছে—

(ক) ভেঁ ভেঁ

(খ) হুকাহুয়া

(গ) মিও মিও

(ঘ) বকম বকম

৬২। শূন্যস্থানে কী বসবে? ABC BCD CDE ———.

(ক) DCE

(খ) BDE

(গ) DEF

(ঘ) EFG

৬৩। রাস্তাঘাটে চলতে হবে—

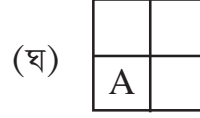
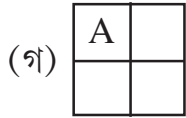
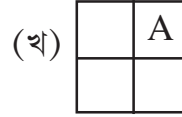
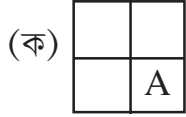
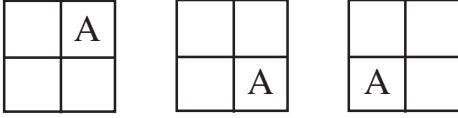
(ক) চোখ বন্ধ করে

(খ) চতুর্দিক দেখে

(গ) কোনোদিকে না দেখে

(ঘ) ডানদিকে

৬৪। নীচের শ্রেণির পরবর্তী চিত্র কোনটি হবে?



৬৫। কোন্ জামাকাপড় থেকে রোগ ছড়ায়?

(ক) পরিষ্কার জামা

(খ) নোংরা জামা

(গ) নতুন জামা

(ঘ) পুরানো জামা

৬৬। কাগজের ছোট ছোট টুকরোকে আঠা দিয়ে একটা আর্টপেপারের উপরে পরপর লাগিয়ে একটি ছবির আকৃতি দেওয়াকে বলে—

(ক) মালাগাঁথা

(খ) মৃৎশিল্প

(গ) কোলাজ

(ঘ) কোনোটিই নয়

৬৭। **How many month begin with 'D'**

(ক) One

(খ) Two

(গ) Three

(ঘ) Four

৬৮। দিনের শেষে সূর্যের রঙ লাল হয়ে আসে, ঐ সময় কী বলবে?

(ক) পূর্বাহ্ন

(খ) মধ্যাহ্ন

(গ) সায়াহ্ন

(ঘ) রাতের বেলা

৬৯। সাবধানে সোজা হয়ে দাঁড়ানোর সময় পায়ের পাতা থাকবে—

(ক) W

(খ) V

(গ) H

(ঘ) X

৭০। বায়ুদূষণ রোধ করতে প্রয়োজন—

(ক) বৃক্ষচ্ছেদন

(খ) কারখানা দূষণ বাড়ানো

(গ) যানবাহনের ব্যবহার বাড়ানো

(ঘ) বৃক্ষরোপণ

৭১। খাবার ঢাকা না থাকলে তাতে বসে—

(ক) মাছি

(খ) পিঁপড়ে

(গ) ইঁদুর

(ঘ) প্রজাপতি

৭২। হাতের সূক্ষ্ম পেশির বিকাশ হয়—

(ক) দৌড়াদৌড়ি করলে

(খ) ছবিতে রঙ করলে

(গ) লাফালাফি করলে

(ঘ) সাইকেল চালালে

৭৩। পিপাসা নিবারণের জন্য কী প্রয়োজন—

(ক) চা

(খ) কফি

(গ) জল

(ঘ) খাদ্য

৭৪। মিড ডে মিলে কেমন খাবার খাওয়া উচিত?

(ক) ঠাণ্ডা

(খ) তেলজাতীয়

(গ) গরম গরম

(ঘ) বাসি

৭৫। কোন্ খেলায় পাঠ্য বিষয়ের বিভিন্ন জিনিসের সঙ্গে সম্পর্ক গড়ে উঠে—

(ক) ব্রতচারী

(খ) পরিচয়ের খেলা

(গ) রঙ নিয়ে খেলা

(ঘ) জল নিয়ে খেলা

৭৬। পরিবারের সকলের সাথে কাজ করলে কী মনোভাব গড়ে ওঠে—

(ক) ধ্বংসাত্মক

(খ) সৃষ্টিশীল

(গ) মানবিক

(ঘ) সৃজনাত্মক

৭৭। প্রারম্ভিক সমাবেশের পর শ্রেণিকক্ষে 'কিছুক্ষণ' শান্ত হয়ে বসবে। 'কিছুক্ষণ' বলতে কত সময় বোঝায়?

(ক) ১৫ মিনিট হতে ২০ মিনিট

(খ) ১ থেকে ৩ মিনিট

(গ) ৩০ মিনিট

(ঘ) ৪২ মিনিট

৭৮। অনুমান ক্ষমতার অনুশীলন কোন্ খেলায় হয়?

(ক) বল নিয়ে খেলা

(খ) যোগাসন

(গ) কবাডি

(ঘ) কানামাছি

৭৯। সব কাজে সবখানে যেন হই সৎ

ভালো হয়ে চলবই নিয়েছি

(ক) পণ

(খ) প্রতিজ্ঞা

(গ) শপথ

(ঘ) অনড়

- ৮০। কাঁটা ফল বেশি দেবী করে খেলে ফলের কী নষ্ট হয়?
(ক) স্বাদ (খ) প্রোটিন
(গ) ভিটামিন (ঘ) কোনোটিই নয়

বিষয় : সাধারণ জ্ঞান

● সঠিক উত্তরটি বেছে '✓' চিহ্ন দাও :

- ৮১। আমাদের লেখাপড়া শেখান?
(ক) ডাক্তার (খ) পুলিশ
(গ) শিক্ষিকা শিক্ষক (ঘ) পিয়ন
- ৮২। ঘড়িতে কটি কাঁটা থাকে?
(ক) ২টি (খ) ৩টি
(গ) ১টি (ঘ) ৪টি
- ৮৩। রামধনুতে কতগুলি রঙ থাকে?
(ক) পাঁচটি (খ) সাতটি
(গ) ছয়টি (ঘ) একটি
- ৮৪। গাছে গর্ত করে কোন্ পাখি?
(ক) পায়রা (খ) ময়না
(গ) কাঠঠোকরা (ঘ) চডুই
- ৮৫। রসগোল্লা কী থেকে হয়?
(ক) দুধ (খ) ছানা
(গ) চিনি (ঘ) কোনোটিই নয়
- ৮৬। কাঁঠাল ফলটি কী অবস্থায় খাওয়া হয়?
(ক) কাঁচা (খ) পাকা
(গ) দুটোই (ঘ) কোনোটিই নয়
- ৮৭। যে চিত্রের কোনো বাহু এবং কোনো কোণ নেই তাকে বলা হয়?
(ক) চতুর্ভুজ (খ) বৃত্ত
(গ) ত্রিভুজ (ঘ) বাহু
- ৮৮। একটি ভেষজ উদ্ভিদ হল—
(ক) আম (খ) কাঁঠাল
(গ) খেজুর (ঘ) তুলসী
- ৮৯। বাংলা বছরের শেষ মাস কোনটি?
(ক) বৈশাখ (খ) শ্রাবণ
(গ) মাঘ (ঘ) চৈত্র

- ৯০। পায়ের পেশীর দুর্বলতা দূর করে—
 (ক) অর্ধ শলভাসন (খ) পবন মুক্তাসন
 (গ) তালাসন (ঘ) যোগমুদ্রা
- ৯১। এক কেজি লোহা ও এক কেজি তুলা দুয়ের মধ্যে কোন্টি বেশি ভারী?
 (ক) লৌহা (খ) তুলা
 (গ) দুটোই সমান (ঘ) কোনোটাই নয়
- ৯২। আমরা যে গ্রহে বাস করি তার নাম—
 (ক) বুধ (খ) মঙ্গল
 (গ) পৃথিবী (ঘ) বৃহস্পতি
- ৯৩। মিনিটের কাঁটা এবং ঘণ্টার কাঁটা দুটোই ১২-র ঘরে এলে কটা বাজবে?
 (ক) ২ (খ) ১২
 (গ) ১৩ (ঘ) ৩
- ৯৪। তোমার মায়ের বাবা তোমার কে হন?
 (ক) নাতি (খ) বাবা
 (গ) দাদু (ঘ) ঠাকুরদা
- ৯৫। পৃথিবীর শক্তির মূল উৎস কী?
 (ক) সূর্য (খ) চন্দ্র
 (গ) মঙ্গল (ঘ) বুধ
- ৯৬। কোন্ প্রাণীকে জঙ্গলের রাজা বলা হয়?
 (ক) বাঘ (খ) হরিণ
 (গ) সিংহ (ঘ) শেয়াল
- ৯৭। ভারতের জাতীয় পতাকার চাকায় কয়টি স্পোক থাকে—
 (ক) ২২টি (খ) ২৮টি
 (গ) ১৯টি (ঘ) ২৪টি
- ৯৮। চাঁদের আলো পৃথিবীতে পৌঁছাতে কতক্ষণ সময় লাগে—
 (ক) ১.২৬ সেকেন্ড (খ) ৩.২৬ সেকেন্ড
 (গ) ১৮ সেকেন্ড (ঘ) ১ মিনিট
- ৯৯। দূরের বস্তু দেখতে ব্যবহৃত যন্ত্রের নাম—
 (ক) বায়োস্কোপ (খ) লেন্স
 (গ) টেলিস্কোপ (ঘ) কোনোটিই নয়
- ১০০। দুই অংকের বৃহত্তম সংখ্যা কোন্টি?
 (ক) ৪৪ (খ) ১৯
 (গ) ৮৯ (ঘ) ৯৯